

## 1 Van de kaart naar de werkelijkheid

Verbind de hoogtelijnen met de juiste doorsnede.

1

2

3

4

A

B

C

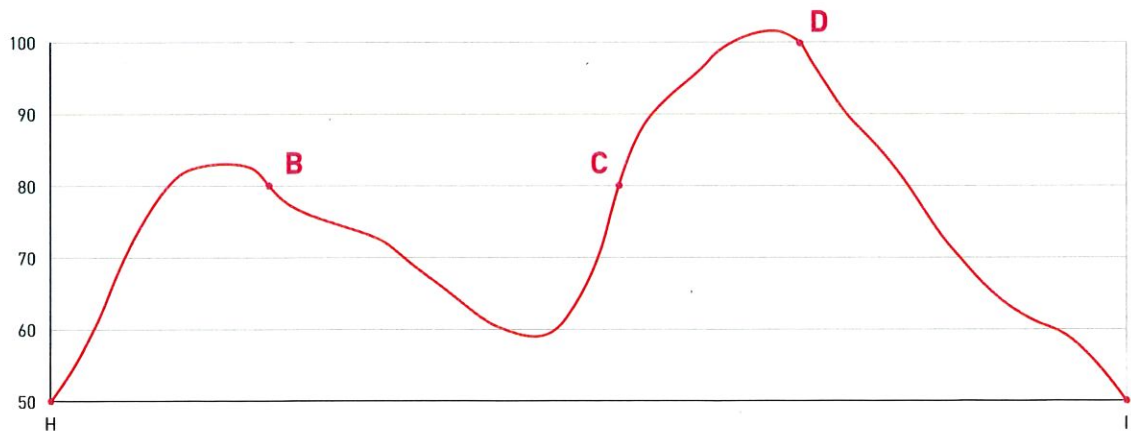
D

## 2 Een reliëfdoorsnede

Bekijk de kaart met hoogtelijnen bij opdracht 1 van de vorige les.

Hieronder vind je een reliëfdoorsnede op de lijn HI.

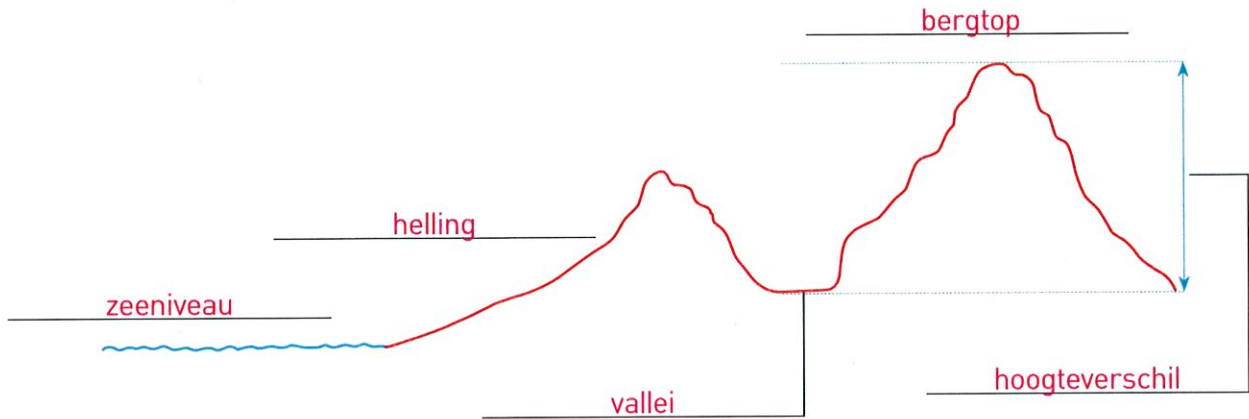
Schrijf de letters B, C en D op de doorsnede. Zet daarbij telkens een punt op de juiste plaats.



### 3 Begrippen


Vul het schema in.

Kies uit: bergtop - helling - hoogteverschil - zeeniveau - vallei.



### 4 Extra: vive le Tour!

Een bergetappe uit de ronde van Frankrijk van Andorra naar Pla de Beret.



- Hoe vaak rijden de renners boven 1500 m in deze rit? drie keer.
- Verklaar hoe het komt dat op het einde er slechts een halve berg(top) getekend is.

De aankomst is boven op de bergtop. Daar eindigt de rit en dus ook de tekening.

L5

## 5 Reliëfvormen in ons land

Vul het rooster verder aan. Vergelijk met het bronnenboek op pagina 60.

	<input type="checkbox"/>	<input type="checkbox"/>	<input type="checkbox"/>
horizon	golvend	min of meer recht	recht
helling	zwak	steil	geen
hoogteverschillen	matig	groot	geen
van ... tot ... m	van 50 tot 200 m	van 200 tot 700 m	van 0 tot 50 m
naam	heuvel	plateau	vlakte

Zet een kruisje bij de foto die het best lijkt op de reliëfvorm bij jou in de buurt.

## 6 Extra

Zoek op in je atlas en markeer het juiste antwoord.

- Het hoogste punt in België is Baraque de Fraiture / Kluisberg / **Botrange**.
- Ik wil weten welk weer het wordt in mijn buurt.  
Ik luister als de weervrouw het heeft over **Laag-** / Midden- / Hoog-België.
- Duinen vind je in een **vlaktegebied** / heuvelgebied / plateaugebied.

Eigen situatie.